



# Coleção Brasileira

## Atividade – Geografia – 5º ano – Unidade 1

1. Encontre no caça palavras alguns astros do sistema solar.

A	S	D	F	G	B	N	J	R	M	E	R	C	U	R	I	O	E	W	G	Y	U	I	O	P	W	T	E	R	R	A	H	X	Z	Y	O	C	A	D	G			
H	J	E	W	T	Y	U	E	R	T	Y	U	I	S	P	A	F	E	R	B	A	R	A	I	E	D	S	F	R	G	T	Y	W	E	R	T	Y	U	I	O	V	E	
N	U	S	G	D	F	G	U	G	A	X	C	V	B	N	D	F	N	M	K	L	O	E	S	R	Q	W	S	O	L	D	E	R	F	V	T	G	B	N	H			
Y	F	P	L	U	T	Ã	O	P	D	F	G	H	P	S	X	C	D	R	D	W	S	E	D	R	F	T	G	H	Y	U	J	I	K	S	X	C	D	V	B	N		
T	A	S	D	F	G	H	J	K	L	Ç	Z	X	C	V	B	N	M	Q	W	E	R	T	Y	U	I	W	M	A	R	T	E	Z	D	F	R	G	U	M	S			
W	Q	E	R	T	Y	U	J	U	P	I	T	E	R	H	J	K	W	E	R	T	F	Q	A	Z	X	C	V	F	V	B	G	T	H	R	D	C	F	E	G	E		
I	L	R	F	T	H	B	E	T	R	F	G	V	B	H	N	M	J	K	I	R	S	T	F	T	D	T	U	I	S	L	A	E	O	E	T	I	U	F	D	S	W	V
B	E	R	A	D	C	E	T	G	B	N	H	E	W	S	Y	U	I	O	P	V	B	S	A	U	N	R	T	Y	G	B	H	C	E	S	A	G	E	T	H			
F	P	A	E	R	T	Y	U	I	G	L	I	O	Z	X	C	V	B	N	M	T	A	O	G	H	D	F	V	B	G	T	W	S	X	D	C	E	F	V	B	Q		
A	E	U	T	R	S	U	E	C	B	N	M	K	L	A	S	U	D	F	G	T	G	B	N	M	Y	W	L	U	S	E	T	Y	N	E	T	U	N	O	N			
B	N	S	D	E	R	T	S	Z	S	X	C	D	V	F	B	G	N	H	N	M	R	D	S	E	G	M	T	H	U	M	B	D	E	W	S	X	D	R	T			
V	T	R	W	Z	S	A	T	U	R	N	O	Y	W	D	F	V	B	N	M	J	K	L	O	P	R	E	W	Q	A	S	C	B	D	E	R	V	B	N	T			
R	C	V	B	N	M	A	S	D	F	G	H	J	K	L	Ç	Q	W	E	R	T	Y	U	I	O	P	A	S	D	F	G	H	J	K	L	X	U	C	E	S	N	I	

## Atividade – Geografia – 5º ano – Unidade 1

2. Assinale um X nas afirmações corretas.

- ( ) Astros são corpos celestes que podem ter luz própria ou não.
- ( ) Os planetas são astros que não possuem luz própria e giram ao redor de uma estrela.
- ( ) O sistema solar não apresenta uma estrela.
- ( ) As estrelas são astros que giram ao redor dos planetas.
- ( ) A Terra é um astro do sistema solar.

3. Relacione as colunas.

- |                |  |
|----------------|--|
| (a) Lua        | ( ) estrela do sistema solar                         |
| (b) Júpiter    | ( ) caminho que um planeta percorre em torno do Sol. |
| (c) Sol        | ( ) satélite natural da Terra                        |
| (d) Telescópio | ( ) maior planeta do sistema solar                   |
| (e) Órbita     | ( ) instrumento utilizado para observar os astros    |

4. Crie uma história imaginária em quadrinhos sobre a visita de um habitante de um outro planeta do sistema solar à Terra.

**Atividade – Geografia – 5º ano – Unidade 1**

5. Responda às questões.

a) Quais são os dois movimentos realizados pelo planeta Terra? Como eles ocorrem?

---

---

---

---

---

---

b) Quais são as estações do ano? Como elas ocorrem?

---

---

---

---

---

c) Como é a forma da Terra?





---

---

---

**Atividade – Geografia – 5º ano – Unidade 1**

6. Observe as fotos. Elas retratam um mesmo lugar em diferentes estações do ano. Identifique as estações em cada uma das imagens.

 <p>_____</p>	 <p>_____</p>
 <p>_____</p>	 <p>_____</p>

**Atividade – Geografia – 5º ano – Unidade 1**

7. Observe o mapa-múndi e responda.



a) Qual o nome da linha imaginária que divide a Terra em Hemisfério norte e Hemisfério sul?

---

b) Como se chama a linha que divide a Terra em Hemisfério oriental e Hemisfério ocidental?

---

**Atividade – Geografia – 5º ano – Unidade 1**

c) Quantos e quais são os continentes e os oceanos da Terra?

---

---

---

d) De acordo com o meridiano de Greenwich, em qual hemisfério está localizado o continente americano?

---

e) De acordo com a linha do Equador, em qual hemisfério está localizada a maior parte do Brasil?

---

---

**Atividade – Geografia – 5º ano – Unidade 1**

8. Observe o mapa político da América do Sul e responda às questões.



**Atividade – Geografia – 5º ano – Unidade 1**

a) Quais países da América do Sul são atravessados pelo Trópico de Capricórnio?

---

---

b) Quais países fazem fronteira com o estado de Mato Grosso do Sul?

---

c) Que oceanos banham a América do Sul a leste e a oeste?

---

---

---

d) Que países da América do Sul não banhados por oceanos?

---

---

e) Quais países possuem território entre a linha do Equador e o Trópico de Capricórnio?

---

---

## Atividade – Geografia – 5º ano – Unidade 1

### Gabarito

#### Atividades

1. Encontre no caça palavras alguns astros do sistema solar.



2. Assinale um X nas afirmações corretas.

- (x) Astros são corpos celestes que podem ter luz própria ou não.
- (x) Os planetas são astros que não possuem luz própria e giram ao redor de uma estrela.
- (x) A Terra é um astro do sistema solar.

3. Relacione as colunas.

- |                |  |
|----------------|--|
| (a) Lua        | (c) estrela do sistema solar.                        |
| (b) Júpiter    | (e) caminho que um planeta percorre em torno do Sol. |
| (c) Sol        | (a) satélite natural da Terra.                       |
| (d) Telescópio | (b) maior planeta do sistema solar.                  |
| (e) Órbita     | (d) instrumento utilizado para observar os astros.   |

4. Crie uma história imaginária em quadrinhos sobre a visita de um habitante de um outro planeta do sistema solar à Terra.

**Desenho do aluno.**

5. Responda às questões.

a) Quais são os dois movimentos realizados pelo planeta Terra? Como eles ocorrem?

**Resposta: Rotação: a Terra gira ao redor de si mesma em aproximadamente 24 horas, determinando o dia e a noite.**

**Translação: a Terra gira ao em volta do Sol em aproximadamente 265 dias e 6 horas (1ano).**

### Atividade – Geografia – 5º ano – Unidade 1

b) Quais são as estações do ano? Como elas ocorrem?

**Resposta: Primavera, verão, outono e inverno. As estações do ano ocorrem porque a Terra gira sempre inclinada. Por esse motivo, uma metade do planeta recebe mais diretamente a luz do Sol do que a outra.**

c) Como é a forma da Terra?

**Resposta: A Terra é um planeta de forma arredondada, ligeiramente achatado nos pólos.**

6. Observe as fotos. Elas retratam um mesmo lugar em diferentes estações do ano. Identifique as estações em cada uma das imagens.

<b>Primavera</b>	<b>Verão</b>
<b>Outono</b>	<b>Inverno</b>

7. Observe o mapa-múndi e responda.

a) Qual o nome da linha imaginária que divide a Terra em Hemisfério norte e Hemisfério sul?

**Resposta: Linha do Equador.**

b) Como se chama a linha que divide a Terra em Hemisfério oriental e Hemisfério ocidental?

**Resposta: Meridiano de Greenwich.**

c) Quantos e quais são os continentes e os oceanos da Terra?

**Resposta: Seis continentes: América, África, Ásia, Oceania, Europa e Antártida.**

**Cinco Oceanos: Atlântico, Índico, Pacífico, Glacial Ártico e Glacial Antártico.**

d) De acordo com o Meridiano de Greenwich, em qual hemisfério está localizado o continente americano?

**Resposta: Ocidental.**

e) De acordo com a Linha do Equador, em qual hemisfério está localizada a maior parte do Brasil?

**Resposta: Hemisfério sul.**

8. Observe o mapa político da América do Sul e responda às questões.

a) Quais países da América do Sul são atravessados pelo Trópico de Capricórnio?

**Resposta: Chile, Argentina, Paraguai e Brasil.**

b) Quais países fazem fronteira com o estado de Mato Grosso do Sul?

**Resposta: Bolívia e Paraguai.**

c) Que oceanos banham a América do Sul a leste e a oeste?

**Resposta: A leste: Oceano Atlântico. A oeste: Oceano Pacífico.**

d) Que países da América do Sul não banhados por oceanos?

**Resposta: Bolívia e Paraguai.**

e) Quais países possuem território entre a linha do Equador e o Trópico de Capricórnio?

**Resposta: Brasil, Colômbia, Equador, Peru, Bolívia, Chile, Paraguai e Argentina.**