

Nome da Escola: \_\_\_\_\_

Nome: \_\_\_\_\_

Turma: \_\_\_\_\_ Nº: \_\_\_\_\_ Período: \_\_\_\_\_

Disciplina: \_\_\_\_\_

Professor: \_\_\_\_\_

## **Expressões**

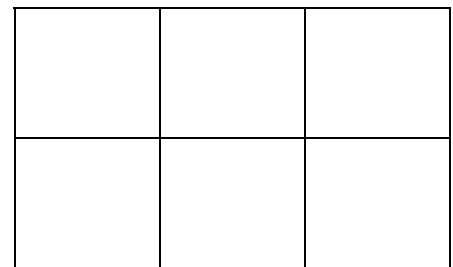

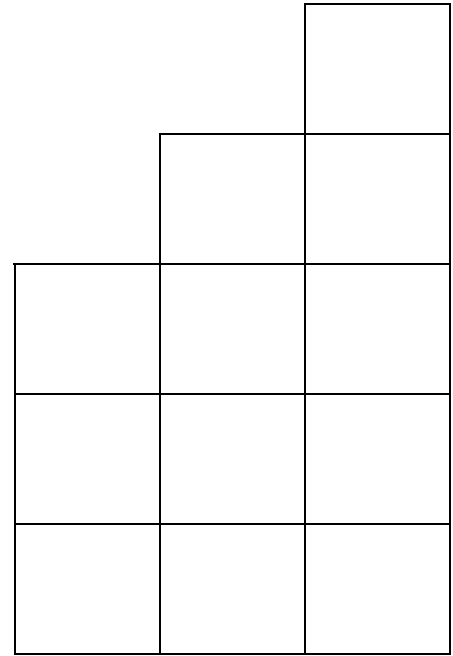

Observe as figuras desenhadas abaixo.

- 1) Pinte uma figura de cada cor;
- 2) Escreva embaixo de cada figura uma escrita que representa o número de seus quadrinhos.

Para isso, obedeça às seguintes condições:

- só podem ser utilizados os números 1, 2, 3, 4, 5, 6, 7, 8, 9;
- pode ser utilizado apenas um dos sinais (+) ou (×);
- a escrita deve ser mais curta possível;
- procure não repetir números na escrita de cada figura.

Lição de casa – Matemática – 2º ano – Unidade 3



**Lição de casa – Matemática – 2º ano – Unidade 3**

